


MOIS 0 :

(début)
Il n'y a qu'un seul couple de lapins.

1 couple



Exercice 1 :


Refaites et complétez le tableau suivant :

Le dessin des couples de lapins n'est pas nécessaire, le but étant de déterminer, chaque mois, le nombre total de couples de lapins.

MOIS 1 :

Chaque couple donne naissance à un nouveau couple à partir du deuxième mois. Il n'y a donc, encore, qu'un seul couple de lapins.



1 couple



MOIS 2 :

Le couple initial de lapins donne, maintenant, naissance à un nouveau couple de lapins.



2 couples



MOIS 3 :

Le couple initial redonne naissance à un nouveau couple de lapins, mais le deuxième couple doit encore attendre 1 mois avant de donner naissance à un couple.

3 couples



MOIS 4 :

●●● couples

MOIS 8 :

●●● couples