

Prénom : _____



Mathématiques

Révisions de fin d'année



1. Classe les nombres dans l'ordre croissant :

4	18	14	17	10
---	----	----	----	----

--	--	--	--	--

9	19	11	16	2
---	----	----	----	---

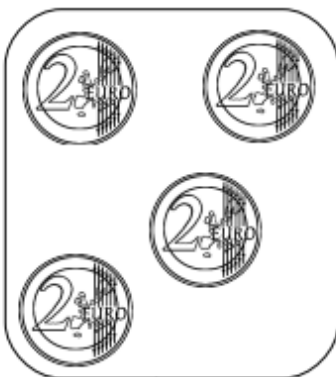
--	--	--	--	--

2. Combien chaque enfant a-t-il dans sa tirelire ? Entoure le prénom de celui qui a le plus d'argent en jaune, le moins d'argent en bleu.

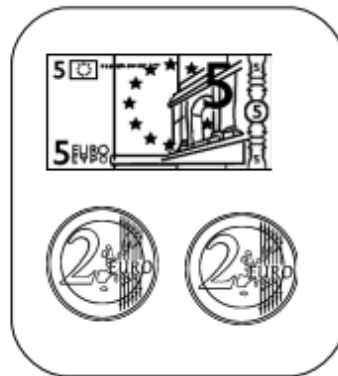
Laura

Paul

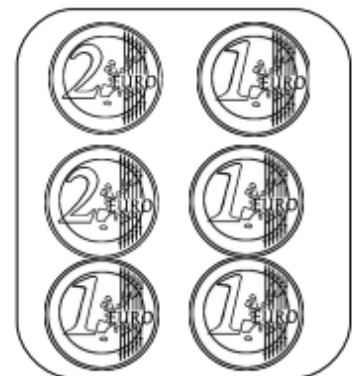
Marie



.....



.....



.....

3. Colorie les calculs et leur somme de la même couleur :

$2 + 2$	10	8	20	$3 + 3$
$1 + 1$	$4 + 4$	14	$10 + 10$	2
$9 + 9$	$6 + 6$	4	16	$7 + 7$
6	12	$8 + 8$	18	$5 + 5$

4. Colorie le nombre représenté avec les cubes :

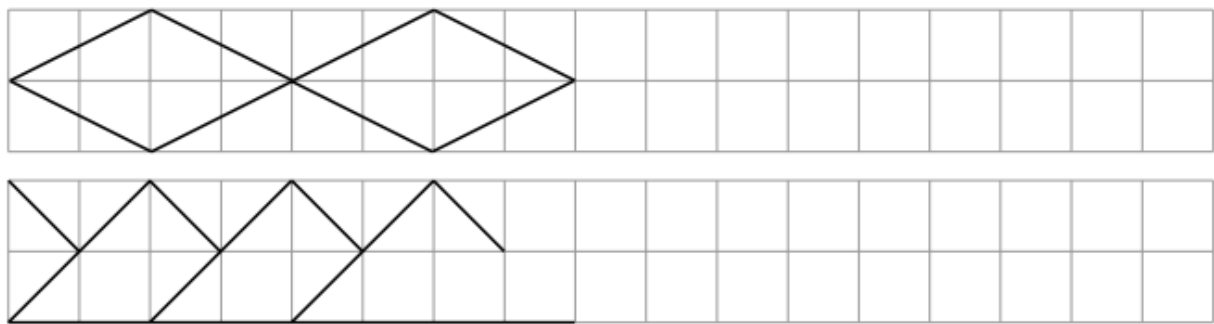
17 15

12 21

32 23

21 12

5. Poursuis la frise au crayon à papier et à la règle (tu peux colorier la frise avec tes crayons de couleur).



6. Résous le problème suivant :

C'est la récré !

Dans le  il y a :

14  7 ont été achetés.

Combien en reste-t-il ?

dessine 

calcule  - =

